

<範圍： 第二篇第一章~第二篇第二章 >

【劃卡代號：52】

班級：

座號：

姓名：

參考範例：

※答案卡限用 2B 鉛筆劃記，答案請劃記明確；若有劃記錯誤，請擦拭乾淨。分數以電腦讀卡分數為準。

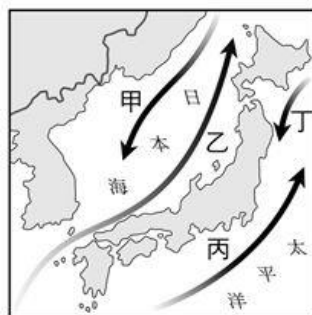
※請作答於答案卷上，考試完畢僅繳交答案卷，請不要填錯格。

一、選擇題(共 32 題，第 1~28 題 3 分，29~32 題 4 分，滿分 100)

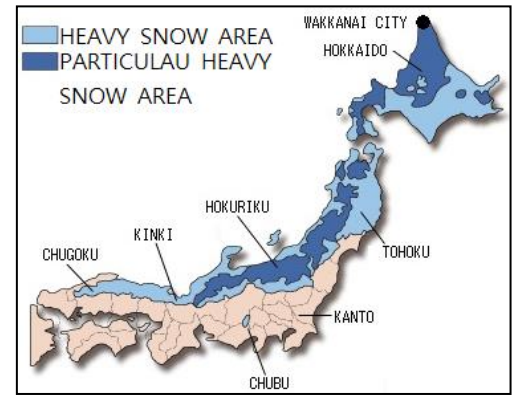
※下圖為日本氣象廳公告的日本活火山分布圖。請根據下圖回答第 1~3 題：



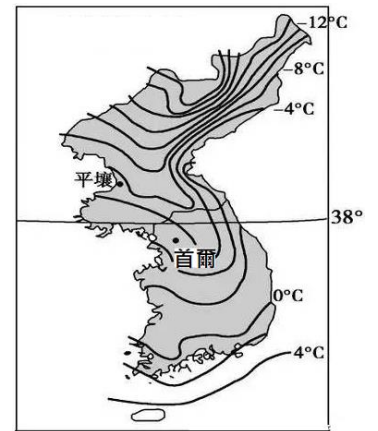
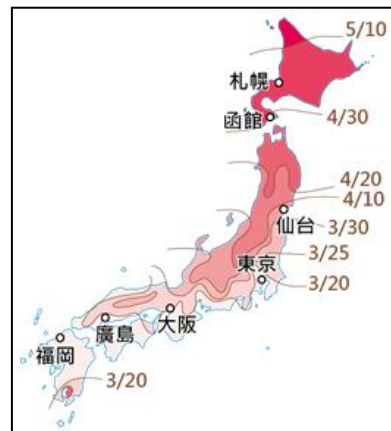
- 日本多火山的主因為何？
(A) 島嶼地形破碎 (B) 寒暖洋流交會
(C) 礦產樣多量少 (D) 地處板塊交界
- 圖中★處為「311 東日本大地震」的震央所在，其所引起的海嘯最可能來自哪個海域？
(A) 黃海 (B) 太平洋 (C) 日本海 (D) 對馬海峽
- 文摺退休後決定帶佩琦到日本二度蜜月，上圖為其規劃行程時所用參考資料。文摺所規劃的行程最可能為下列何者？
(A) 日本養生泡湯行 (B) 日本生魚片吃透透
(C) 日本鐵道小旅行 (D) 日本浪漫追櫻之旅
- 日本漁獲量居世界前茅，由此可知日本漁業技術優良。日本漁業發達的主因為何(參考右圖回答)？(A)地廣人稀故需善用海洋資源 (B)長且曲折的斷層海岸多良港 (C)丙(黑潮)與丁(親潮)在近海交會 (D)四面環海，鄰近東北太平洋漁場
- 習小小利用氣象衛星及各地氣象站資料，整理亞洲各地的冬季平均氣溫分布，他觀察到下列何地的冬溫有遞減現象？(A)由 66.5°S 向 23.5°S 移動 (B)自日本沿 35°N 到中國北京 (C)從臺灣北部移居臺灣南部 (D)塔里木盆地到長江三角洲



- 右圖為日本國土交通省公告的降雪地圖，顏色愈深代表降雪量愈多，造成日本區域降雪量差異的主因為何？(A)冬季季風經過海上 (B)緯度最高降水較多 (C)暖流流經冬溫較高 (D)地勢最高攔阻水氣



- 下圖左為日本氣象株式會社提供給遊客參考的櫻花開花時間地圖，可用該圖佐證日本的何種氣候特色？
(A) 四面海洋環繞 (B) 溫帶季風氣候
(C) 南北跨緯度大 (D) 夏秋常有颱風



- 上圖右為朝鮮半島一月等溫線分布圖，影響圖中等溫線分布的主因為何？(甲)緯度(乙)季風(丙)地形(丁)洋流。
(A) 甲乙 (B) 甲丙 (C) 乙丙 (D) 乙丁
- 1945 年 8 月 15 日，二次大戰日本戰敗，朝鮮半島脫離日本統治而獨立。南韓將這天訂為「光復節」，北韓則稱「祖國解放日」，這一天是南、北韓共同的公訂假日。當天南韓全國各地都會懸掛國旗以示慶祝，此時國旗多飄向哪個方向？
(A) 西北 (B) 西南 (C) 東北 (D) 東南
- 每年從北韓出逃的人不少，活得下來的卻不多。下圖為脫北者書中提到風險最低的路線，圖中的(甲)所指為何？
(A) 太白山脈&蓋馬高原 (B) 太白山脈&圖門江
(C) 長白山脈&黑龍江 (D) 長白山脈&鴨綠江

#脫北是項技術活

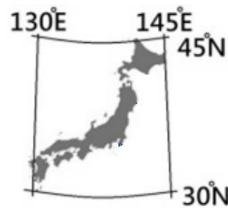
北韓人民怎麼逃？
四種主要路線大公開！

#路線一：中國
往北穿越(甲)進入東北，目的是到南韓駐領事館尋求庇護。

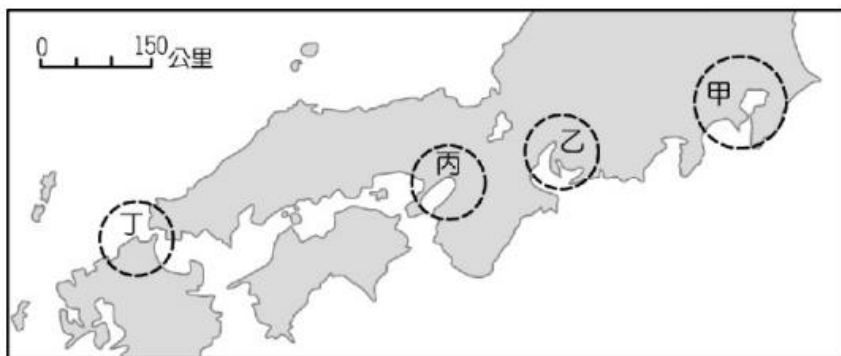
⚠️ 難以進入領事館，一旦被中國抓到立刻遣送回北韓。

⚠️ 風險係數 ★★★★★

11. 朝鮮半島南北農業發展差異大，北韓年僅一穫，糧產不足，常發生饑荒。下列何者「並非」造成上述差異的原因？(A)北部農業生產技術落後(B)北部緯度高生長季較短 (C)南部平原面積較北部廣 (D)北部降水量不足 500mm
12. 地理老師上課所述的內容中，哪個地理現象與該國氣候「無關」？(A)日本發展出以稻米為主食的飲食文化 (B)日本傳統建築多使用重量較輕的木材 (C)朝鮮傳統民宅內多有『溫突』的設施 (D)泡菜是朝鮮日常生活中不可或缺食物。
13. 日語中，常見同一物品既有漢字也有外來語的用法，最常見的是將英文去頭去尾，如「コンビニ」(konbini)，便是 convenient store 的簡寫，漢字為「便利店」。導致上述現象的主因為何？(A)日文沒有屬於自己的語言 (B)日本受西方文化影響甚深 (C)日本文化兼具東西方特色 (D)日本文化根源自中國文化
14. 右圖為日本的絕對位置圖。文摺到達日本後，手錶時間需如何調整？(A)調快一小時 (B)調慢一小時 (C)調快兩小時 (D)不用調整。



※下圖為日本主要工業區分布圖，請參考下圖回答第 15~17 題：

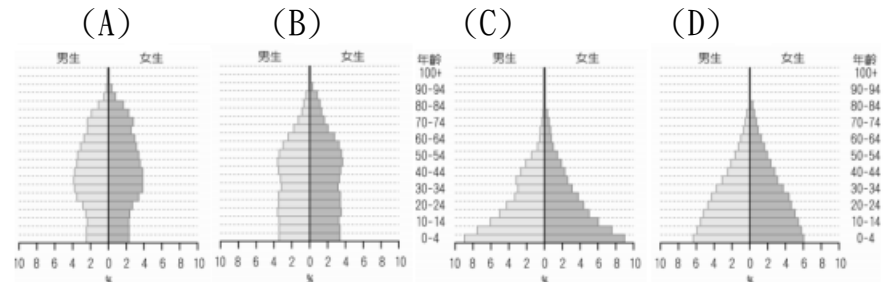


15. 關西機場→大阪城賞櫻→心齋橋吃拉麵→日本橋採購動漫周邊。以上是文摺抵達日本後首日的行程，他旅遊的地點位於圖中何處？哪個平原？(A)甲~關東平原 (B)乙~濃尾平原 (C)丙~近畿平原 (D)丁~九州平原
16. 由圖可看出日本主要工業區多分布於沿海，導致此分布特色的主因為何？(A)沿海地區礦產資源較豐富 (B)沿海地區利於進出口貿易 (C)沿海地區土地貧瘠不利農業 (D)經濟政策規劃廠房地租便宜
17. 日本主要的工業區多分布在哪个島嶼？(A)北海道 (B)本州 (C)四國 (D)九州
18. 老師上課時播放大阪地鐵站引進人臉辨識機，只要刷臉就能通關搭地鐵的新聞影片。可用該新聞說明日本工業的哪些優勢？(甲)水電豐沛 (乙)海運便利 (丙)創新研發能力 (丁)勞工技術優良。(A)甲乙 (B)乙丙 (C)乙丁 (D)丙丁

※日本高齡工作者日漸增加，俗稱「70 現役社會」，政府也以法規要求企業須提供職員或求職者到 70 歲的就業機會。部分公司更將退休年齡延至 80 歲，善用老員工豐富的工作經驗，增加公司營收。

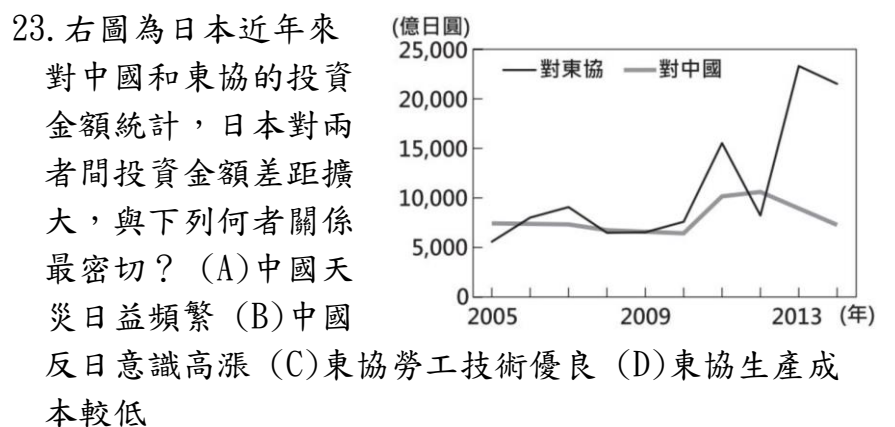
請根據上文回答第 19~21 題：

19. 參考上文，下列何圖最接近日本現今的人口結構？



20. 政府及企業紛紛延後退休年齡，此舉是為了解決日本面臨的何種問題？(A)生產成本增加 (B)人口呈負成長 (C)勞動力不足 (D)外國投資停滯
21. 針對上述問題，有何解決之道？(A)轉型以技術研發及文創產業為主 (B)部分工廠外移至工資低廉的國家 (C)廣設公立幼兒園並提高育兒津貼 (D)透過產業合作吸納更多國際資金

22. 行駛於日本神奈川縣江之島電鐵的一處平交道，因為被畫進「灌籃高手」動畫片頭，多年來被動漫迷視為「聖地」，朝聖熱潮多年未減。「灌籃高手」電影於今年 12 月在日本戲院上映，吸引不少動漫迷前往「灌籃高手平交道」朝聖拍照。下列關於日本文創產業的敘述何者正確？(A)文創產業屬於第二級產業 (B)產品價值來自產品的創意概念 (C)文創產業佔日本 GDP 逐年下滑 (D)文創產業的收入屬於觀光收入



23. 右圖為日本近年來對中國和東協的投資金額統計，日本對兩者間投資金額差距擴大，與下列何者關係最密切？(A)中國天災日益頻繁 (B)中國反日意識高漲 (C)東協勞工技術優良 (D)東協生產成本較低

24. 下表為南北韓比較表，有幾項內容是正確的？(A)8 (B)7 (C)6 (D)5

項目	政治體制	地形	緯度	生長季	礦產	工業主軸	經濟發展	最大都市
北韓	共產	較高	較低	較短	較多	重工業	較差	平壤
南韓	民主	較低	較高	較長	較少	高科技	較佳	釜山

25. 南韓政府近年來積極在首都西南方 40 公里處，填海造陸擴建仁川港，希望藉由和中國及其他國家的經貿往來，增加港口的吞吐量。由地緣關係判斷，南韓政府會優先考量就近與中國哪個都市港口合作？(A)香港 (B)上海 (C)天津 (D)大連

26. 「歐洲綠化帶」是一條覆蓋歐洲 24 個國家，長達 12,500 公里的生態保護區域。這個保護區域最早是沿東、西德之間的邊界形成，當時邊界滿布隔離設施，使這片地帶近 40 年免於人為開發破壞。之後，環保人士倡議繼續沿著過去敵對雙方的邊界線拓展保護區便是現在的「歐洲綠化帶」。近年來，該工作團隊也在亞洲已經軍事對峙六十餘年的「停戰線」處，協助規畫設立生態保護區域。根據上文判斷，亞洲的生態保護區應位於圖中何處？



(A) 甲 (B) 乙 (C) 丙 (D) 丁

27. 韓國身為世界第八大經濟體，人均 GDP 在東亞地區名列前茅，但我的一位韓國學生卻告訴我他很羨慕台灣人，失業的博士生可以在夜市賣雞排，主播也能開早餐店。在韓國，規模最大的石鍋拌飯屬於三星集團旗下子公司；每餐必備的泡菜，幾乎都是 LG 集團旗下的子公司製造販售…。難怪有人戲稱韓國人從出生到死亡，只要使用一種品牌就可以，手機、尿布、學校、壽險甚至棺材店都是三星製造。韓國大財閥有如鬼魅，無所不在。上文敘述反映南韓經濟快速發展的背後存在何種隱憂？

- (A) 朝鮮南北政治高度緊張對峙
- (B) 高科技業代工技術不如臺灣
- (C) 國家經濟集中少數大型企業
- (D) 社會高度競爭且貧富差距大

※南韓於 2019 年 12 月播出的電視劇《愛的迫降》，呈現南北差異，例如北韓洗頭洗澡一塊肥皂解決，男主角卻特地去黑市買從南韓跨境而來的沐浴乳與洗髮精給女主角用；北韓極度缺電，晚上唯一綻放光明的就只有無所不在的領導人肖像。供電不足，常常斷電，家戶以火柴點燃蠟燭或用油燈。

而電視劇中吃炸雞的畫面，更是讓「bb.q 炸雞店」品牌營業額飆升七成。劇中主角穿著的各式名牌大衣，例如：Gucci、Celine 等，使用的香氛蠟燭、Chopard Alpine Eagle 時尚運動腕錶等，也被網友熱烈討論，可見韓劇的魅力。請參考上文回答第 28~29 題：

28. 導致南、北經濟成長落差大的主因為何？

- (A) 北韓礦產豐富 (B) 南韓水力發達
- (C) 北韓人力充足 (D) 政治制度影響

29. 劇中各種結合時尚產業的包裝行銷手法，使《愛的迫降》女主角系列服飾成為潮流。下列關於此種現象的敘述，何者正確？

- (A) 影視娛樂等影視產業皆為大財閥把持
- (B) 韓劇的整體行銷可帶動周邊產業發展
- (C) 韓流文化的品牌效應僅盛行於南韓境內
- (D) 因利潤較低故政府不支持文化產業發展

30. 有鑑於南韓勞工成本漸增，而北韓經濟發展遲緩又被國際制裁，極需經濟收入，兩韓在 2000 年簽署了《南北共同宣言》，稱南北韓將自主解決國家統一問題，展開各領域的合作交流，並在北韓開城共同設立開城工業區。南韓企業至開城工業區投資的內容最可能為下列何者？

- (A) 鋼鐵造船 (B) 晶片加工
- (C) 紡織成衣 (D) 軟體設計

31. 下列哪些項目屬於日本的特色並且是受中國文化的影響而產生？ (A) 甲乙丁戊辛 (B) 乙丁戊庚辛

- (C) 甲丙己 (D) 乙丁辛

甲	乙	丙	丁
溫突	淺草寺	石鍋拌飯	茶道
戊	己	庚	辛
動漫	文字	豐田	和服

32. 上課時，老師請同學就「日本與南韓的經濟發展」提出自己的看法，下列同學的敘述何者正確？

- (A) 謝大發：因應人口老化，日本、南韓近年皆以技術研發為產業重點，如高科技醫療服務、OLED 電視等。
- (B) 吳小書：日本為避免產業鏈泡沫化，冒著成本升高、勞力不足的危機，也要將製造部門留在國內。
- (C) 賴琳琳：日本在大都市周圍種植蔬果、花卉，屬於勞工區位；工業區多緊鄰港口，屬於交通區位。
- (D) 林小萍：關東工業區是日本最大的工業區；南韓工業區則以最大港釜山為中心，兩地皆以重工業為主。